

1. Un terrain de 8000 m^2 est évalué à $54\ 000\ \$$.
Quel est le prix au mètre carré? (Arrondir le résultat au centième)

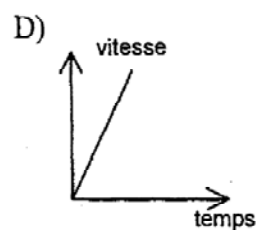
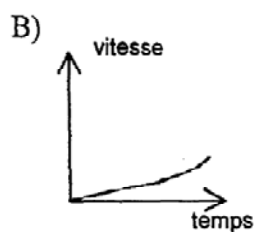
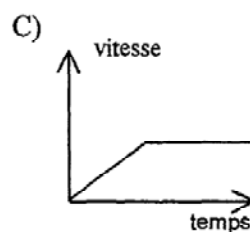
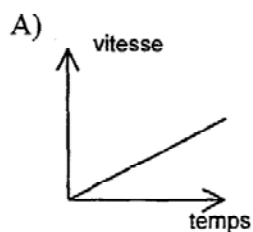
A) $0,15\ \$$ C) $14,81\ \$$
B) $6,75\ \$$ D) $675,00\ \$$

2. Dans une classe de 32 élèves, il y a 12 filles.
Quel est le pourcentage de garçons de cette classe? (Arrondir à l'unité)

A) $12\ \%$ C) $20\ \%$
B) $38\ \%$ D) $63\ \%$

3. Un avion décolle de l'aéroport de Dorval. Après un départ à grande vitesse, il conserve une vitesse constante pendant le reste du vol.

Lequel des graphiques ci-dessous illustre cette situation?



1. B
2. D
3. C